

## INVESTICE DO ROZVOJE VZDĚLÁVÁNÍ

č. 8

<b>název</b>	<b>Státy jižní Evropy</b>
<b>anotace</b>	V pracovních listech žáci poznávají jižní Evropu a její státy. Testovou i zábavnou formou si prohlubují znalosti na dané téma. Součástí pracovního listu je i správné řešení.
<b>očekávaný výstup</b>	<b>ZV – LMP</b> Člověk a příroda – 2. stupeň Z – charakterizovat polohu, rozlohu, přírodní, kulturní, společenské, politické a hospodářské poměry vybraných světadílů, oceánů a vybraných států
<b>druh učebního materiálu</b>	Pracovní list
<b>druh interaktivity</b>	Aktivita
<b>ročník</b>	8.

*Autorem materiálu a všech jeho částí, není-li uvedeno jinak, jsou:*

*A. Strádalová, Mgr. D. Nováková, M. Strádalová, M. Metlický.*

*Vytvořeno dne 30. 1. 2012.*

*Nový začátek (New start) CZ.1.07/1.4.00/21.1409*

*Tento projekt je spolufinancován Evropským sociálním fondem a státním rozpočtem České republiky.*

## STÁTY JIŽNÍ EVROPY – pracovní list

Jméno: \_\_\_\_\_

**V jižní Evropě vznikaly v minulosti první evropské civilizace.**

1. **A** Vybarvi na mapě státy Jižní Evropy.  
**B** Ke křížku napiš název hlavního města.

STÁT	HLAVNÍ MĚSTO	BARVA
Španělsko	Madrid	fialová
Portugalsko	Lisabon	žlutá
Itálie	Řím	oranžová
Řecko	Athény	zelená



*Autorem materiálu a všech jeho částí, není-li uvedeno jinak, jsou:*

*A. Strádalová, Mgr. D. Nováková, M. Strádalová, M. Metlický.*

*Vytvořeno dne 30. 1. 2012.*

*Nový začátek (New start) CZ.1.07/1.4.00/21.1409*

*Tento projekt je spolufinancován Evropským sociálním fondem a státním rozpočtem České republiky.*

2. Modrou barvou vybarvi moře a oceány jižní Evropy.



3. Červenou tečkou označ malé státy, které nazýváme ministáty.

**Andora**  
**Monako**  
**Vatikán**

**San Marino**  
**Malta**



*Autorem materiálu a všech jeho částí, není-li uvedeno jinak, jsou:*

*A. Strádalová, Mgr. D. Nováková, M. Strádalová, M. Metlický.*

*Vytvořeno dne 30. 1. 2012.*

*Nový začátek (New start) CZ.1.07/1.4.00/21.1409*

*Tento projekt je spolufinancován Evropským sociálním fondem a státním rozpočtem České republiky.*

4. Správnou odpověď přiřaď šipkou.

**Státy jižní Evropy leží na:**

**poloostrovech Středozemního moře**

**severu Evropy**

**východě Evropy**

**ostrovech Středozemního moře**

**jihovýchodě Evropy**

5. Vybarvi každé třetí písmeno a větu napiš na volný řádek.

J	M	E	I	F	G	Ž	S	R	N	V	O	Í	D	B	E	T	N	V	B	D	R	E	F	O
K	L	P	O	Z	A	X	Y	L	F	L	E	Š	R	Ž	A	I	Í	L	P	V	S	R	S	O
K	U	L	N	B	M	E	T	D	Č	R	L	P	O	Z	S	P	C	H	I	L	N	C	M	E
K	R	S	É	D	B	M	D	O	P	B	E	Á	K	L	S	N	S	M	R	H	U			

6. Doplň chybějící písmena a zapiš tajenku.

**Tajenka:** \_\_\_\_\_

	<b>olní tok Nilu</b>
	<b>blast západní Evropy</b>
	<b>oře a oceány</b>
	<b>sídlení Evropy</b>
	<b>elká Británie</b>

*Autorem materiálu a všech jeho částí, není-li uvedeno jinak, jsou:*

*A. Strádalová, Mgr. D. Nováková, M. Strádalová, M. Metlický.*

*Vytvořeno dne 30. 1. 2012.*

*Nový začátek (New start) CZ.1.07/1.4.00/21.1409*

*Tento projekt je spolufinancován Evropským sociálním fondem a státním rozpočtem České republiky.*

7. Vylušti rébus a odpověď napiš na řádek.

E	L	T	V	O	M	
T	É	Y	O	R	Á	.
A	J	P	Ř	Ě	N	Y
V	I	O	Í	N	S	D
Y	Ž	R	P	Ž	K	O
B	N	V	Ř	Á	É	R
O	Í	E	E	V	N	Á

---

---

8. Doplně slova ze závorky.

**Zimy jsou v této oblasti velmi \_\_\_\_\_ a \_\_\_\_\_, léta \_\_\_\_\_ a \_\_\_\_\_. Na severu můžeme nalézt rozsáhlé \_\_\_\_\_. Ve Středoze­mním moři se nachází mnoho \_\_\_\_\_. První \_\_\_\_\_ evropské \_\_\_\_\_, jako je Řecko a Řím, se rozprostíraly kolem \_\_\_\_\_.**

**(Středoze­mního moře, mírné, civilizace, vlhké, velké, suchá, ostrovů, horká, lesy)**

*Autorem materiálu a všech jeho částí, není-li uvedeno jinak, jsou:*

*A. Strádalová, Mgr. D. Nováková, M. Strádalová, M. Metlický.*

*Vytvořeno dne 30. 1. 2012.*

*Nový začátek (New start) CZ.1.07/1.4.00/21.1409*

*Tento projekt je spolufinancován Evropským sociálním fondem a státním rozpočtem České republiky.*

9. Stát, který je republikou, označ  $\Delta$  a který královstvím  $\square$ .

Itálie

Španělsko

Řecko

Portugalsko

10. Vylušti rébus pomocí klíče a dopiš větu.

**Předkové dnešních Portugalců byli vynikajícími mořeplavci. Z dějepisu víš, že obepluli Afriku a vykonali první \_\_\_\_\_.**

**Klíč:**

a	c	e	ě	k	l	m	o	s	t	u	v
☞	♣	♣	↗	&	●	○	□	♦	♦	♦	♦

**Rébus:**

♣	♣	♦	♦	♦		&	□	●	♣	○		♦	♦	↗	♦	☞

11. Seřaď podle rozlohy státy jižní Evropy od nejmenšího k největšímu (1 – 9).

číslo	stát	rozloha v km <sup>2</sup>
	Portugalsko	92 391
	Itálie	301 337
	Řecko	131 940
	Španělsko	504 782
	Monako	2,04
	Malta	316
	San Marino	61
	Vatikán	0,44
	Andorra	468

*Autorem materiálu a všech jeho částí, není-li uvedeno jinak, jsou:*

*A. Strádalová, Mgr. D. Nováková, M. Strádalová, M. Metlický.*

*Vytvořeno dne 30. 1. 2012.*

*Nový začátek (New start) CZ.1.07/1.4.00/21.1409*

*Tento projekt je spolufinancován Evropským sociálním fondem a státním rozpočtem České republiky.*

12. Podle nápovědy zapiš do tabulky státy, ve kterých se pěstují zobrazené zemědělské rostliny nebo chovají hospodářská zvířata.




**Nápověda:**

**Portugalsko** - cukrová řepa, kukuřice, rýže, brambory, citrusy, olivy, skot, kozy, prasata, drůbež

**Španělsko** - vinná réva, citrusy, kukuřice, brambory, banány, olivy, broskve, okurky, ovce, ryby, skot, prasata

**Itálie** - fíky, olivy, pšenice, kukuřice, slunečnice, vinná réva, obilí, skot

**Řecko** - obilí, vinná réva, tabák, bavlna, cukrová řepa, ořechy, ovce, kozy, ryby




*Autorem materiálu a všech jeho částí, není-li uvedeno jinak, jsou:*

*A. Strádalová, Mgr. D. Nováková, M. Strádalová, M. Metlický.*

*Vytvořeno dne 30. 1. 2012.*

*Nový začátek (New start) CZ.1.07/1.4.00/21.1409*

*Tento projekt je spolufinancován Evropským sociálním fondem a státním rozpočtem České republiky.*

13. Seřaď podle počtu obyvatel od nejméně po nejvíce osídlený stát (od 1 do 9).

číslo	stát	počet obyvatel
	<b>Portugalsko</b>	<b>10 700 000</b>
	<b>Itálie</b>	<b>60 100 000</b>
	<b>Řecko</b>	<b>11 300 000</b>
	<b>Španělsko</b>	<b>46 100 000</b>
	<b>Monako</b>	<b>32 400</b>
	<b>Malta</b>	<b>397 000</b>
	<b>San Marino</b>	<b>27 300</b>
	<b>Vatikán</b>	<b>440</b>
	<b>Andorra</b>	<b>84 000</b>

*Autorem materiálu a všech jeho částí, není-li uvedeno jinak, jsou:*

*A. Strádalová, Mgr. D. Nováková, M. Strádalová, M. Metlický.*

*Vytvořeno dne 30. 1. 2012.*

*Nový začátek (New start) CZ.1.07/1.4.00/21.1409*

*Tento projekt je spolufinancován Evropským sociálním fondem a státním rozpočtem České republiky.*



Zdroj obrázku:

Všechny uveřejněné odkazy [cit. 2012-01-30] dostupné pod licencí Public domain

– na [www.clker.com](http://www.clker.com)

Kukuřice - <http://www.clker.com/clipart-26623.html>

Vinná réva - <http://www.clker.com/clipart-14196.html>

Olivy - <http://www.clker.com/clipart-13863.html>

Fíky - <http://www.clker.com/clipart-fig.html>

Ryby - <http://www.clker.com/clipart-24040.html>

Prase - <http://www.clker.com/clipart-12920.html>

*Autorem materiálu a všech jeho částí, není-li uvedeno jinak, jsou:*

*A. Strádalová, Mgr. D. Nováková, M. Strádalová, M. Metlický.*

*Vytvořeno dne 30. 1. 2012.*

*Nový začátek (New start) CZ.1.07/1.4.00/21.1409*

*Tento projekt je spolufinancován Evropským sociálním fondem a státním rozpočtem České republiky.*

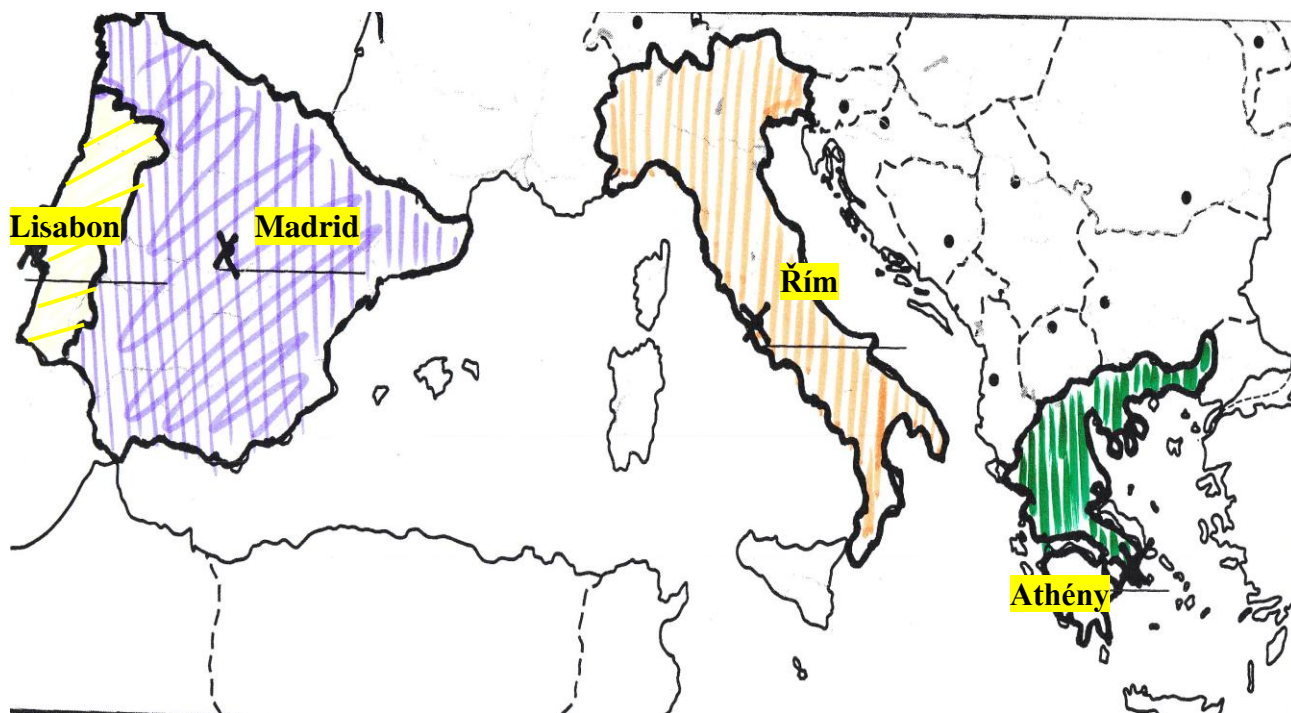
## STÁTY JIŽNÍ EVROPY – řešení

V jižní Evropě vznikaly v minulosti první evropské civilizace.

1. **A** Vybarvi na mapě státy jižní Evropy.

**B** Ke křížku napiš název hlavního města.

STÁT	HLAVNÍ MĚSTO	BARVA
Španělsko	Madrid	fialová
Portugalsko	Lisabon	žlutá
Itálie	Řím	oranžová
Řecko	Athény	zelená



*Autorem materiálu a všech jeho částí, není-li uvedeno jinak, jsou:*

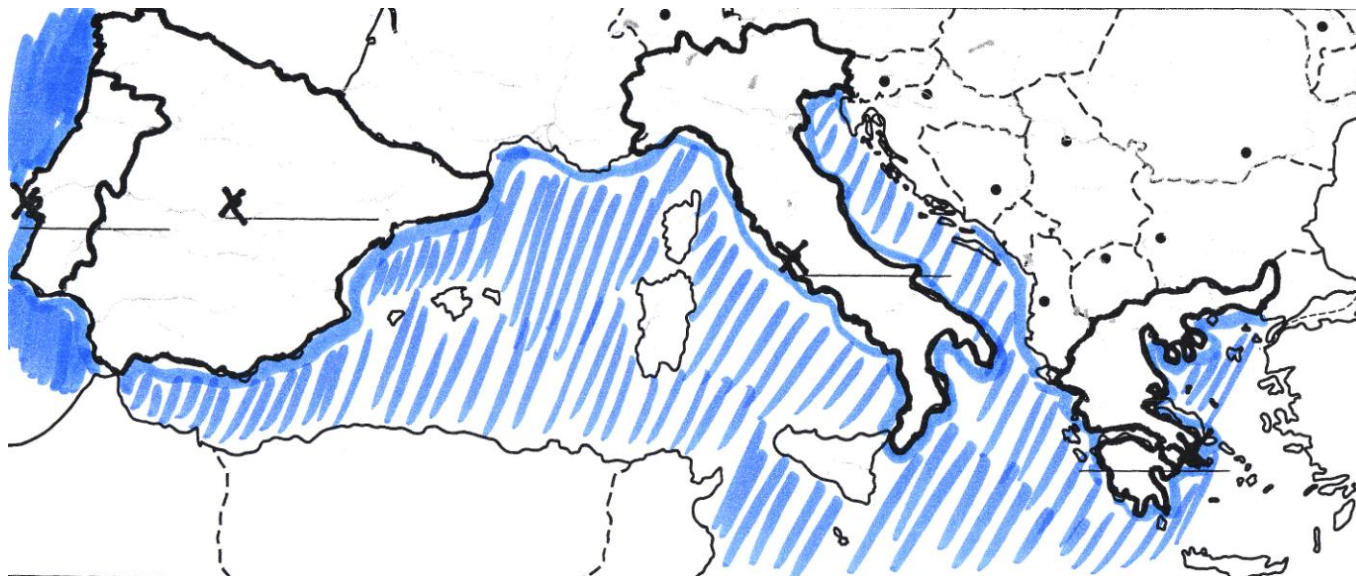
*A. Strádalová, Mgr. D. Nováková, M. Strádalová, M. Metlický.*

*Vytvořeno dne 30. 1. 2012.*

*Nový začátek (New start) CZ.1.07/1.4.00/21.1409*

*Tento projekt je spolufinancován Evropským sociálním fondem a státním rozpočtem České republiky.*

2. Modrou barvou vybarvi moře a oceány jižní Evropy.



3. Červenou tečkou označ malé státy, které nazýváme ministáty.

**Andora**  
**Monako**  
**Vatikán**

**San Marino**  
**Malta**



*Autorem materiálu a všech jeho částí, není-li uvedeno jinak, jsou:*

*A. Strádalová, Mgr. D. Nováková, M. Strádalová, M. Metlický.*

*Vytvořeno dne 30. 1. 2012.*

*Nový začátek (New start) CZ.1.07/1.4.00/21.1409*

*Tento projekt je spolufinancován Evropským sociálním fondem a státním rozpočtem České republiky.*

4. Správnou odpověď přiřaď šipkou.

Státy jižní Evropy leží na:

- poloostrovech Středozemního moře
- severu Evropy
- východě Evropy
- ostrovech Středozemního moře
- jihovýchodě Evropy

5. Vybarvi každé třetí písmeno a větu napiš na volný řádek.

J	M	E	I	F	G	Ž	S	R	N	V	O	Í	D	B	E	T	N	V	B	D	R	E	F	O
K	L	P	O	Z	A	X	Y	L	F	L	E	Š	R	Ž	A	I	Í	L	P	V	S	R	S	O
K	U	L	N	B	M	E	T	D	Č	R	L	P	O	Z	S	P	C	H	I	L	N	C	M	E
K	R	S	É	D	B	M	D	O	P	B	E	Á	K	L	S	N	S	M	R	H	U			

Jižní Evropa leží v subtropickém pásmu.

6. Doplň chybějící písmena a zapiš tajenku.

Tajenka: **DOMOV**

<b>D</b>	olní tok Nilu
<b>O</b>	blast západní Evropy
<b>M</b>	oře a oceány
<b>O</b>	sídlení Evropy
<b>V</b>	elká Británie

Autorem materiálu a všech jeho částí, není-li uvedeno jinak, jsou:

A. Strádalová, Mgr. D. Nováková, M. Strádalová, M. Metlický.

Vytvořeno dne 30. 1. 2012.

Nový začátek (New start) CZ.1.07/1.4.00/21.1409

Tento projekt je spolufinancován Evropským sociálním fondem a státním rozpočtem České republiky.

7. Vylušti rébus a odpověď napiš na řádek.

E	L	T	V	O	M	
T	É	Y	O	R	Á	.
A	J	P	Ř	Ě	N	Y
V	I	O	Í	N	S	D
Y	Ž	R	P	Ž	K	O
B	N	V	Ř	Á	É	R
O	Í	E	E	V	N	Á

**Obyvatelé jižní Evropy tvoří převážně románské národy.**

8. Doplň slova ze závorky.

Zimy jsou v této oblasti velmi **mírné** a **vlhké**, léta **suchá** a **horká**. Na severu můžeme nalézt rozsáhlé **lesy**. Ve Středozemním moři se nachází mnoho **ostrovů**. První **velké** evropské **civilizace**, jako je Řecko a Řím, se rozprostíraly kolem **Středozemního moře**.

(Středozemního moře, mírné, civilizace, vlhké, velké, suchá, ostrovů, horká, lesy)

*Autorem materiálu a všech jeho částí, není-li uvedeno jinak, jsou:*

*A. Strádalová, Mgr. D. Nováková, M. Strádalová, M. Metlický.*

*Vytvořeno dne 30. 1. 2012.*

*Nový začátek (New start) CZ.1.07/1.4.00/21.1409*

*Tento projekt je spolufinancován Evropským sociálním fondem a státním rozpočtem České republiky.*

9. Stát, který je republikou, označ  $\triangle$  a který královstvím  $\square$ .

Itálie  $\triangle$

Španělsko  $\square$

Řecko  $\triangle$

Portugalsko  $\triangle$

10. Vylušti rébus pomocí klíče a dopiš větu.

Předkové dnešních Portugalců byli vynikajícími mořeplavci. Z dějepisu víš, že obepluli Afriku a vykonali první cestu kolem světa.

Klíč:

a	c	e	ě	k	l	m	o	s	t	u	v
☉	♈	♊	↗	&	●	○	□	♦	◆	◆	◆

Rébus:

♈	♊	♦	◆	◆		&	□	●	♊	○		♦	◆	↗	◆	☉
c	e	s	t	u		k	o	l	e	m		s	v	ě	t	a

11. Seřaď podle rozlohy státy jižní Evropy od nejmenšího k největšímu (1 – 9).

číslo	stát	rozloha v km <sup>2</sup>
6	Portugalsko	92 391
8	Itálie	301 337
7	Řecko	131 940
9	Španělsko	504 782
2	Monako	2,04
4	Malta	316
3	San Marino	61
1	Vatikán	0,44
5	Andorra	468

Autorem materiálu a všech jeho částí, není-li uvedeno jinak, jsou:

A. Strádalová, Mgr. D. Nováková, M. Strádalová, M. Metlický.

Vytvořeno dne 30. 1. 2012.

Nový začátek (New start) CZ.1.07/1.4.00/21.1409

Tento projekt je spolufinancován Evropským sociálním fondem a státním rozpočtem České republiky.

12. Podle nápovědy zapiš do tabulky státy, ve kterých se pěstují zobrazené zemědělské rostliny nebo chovají hospodářská zvířata.

**Nápověda:**

**Portugalsko** - cukrová řepa, kukuřice, rýže, brambory, citrusy, olivy, skot, kozy, prasata, drůbež

**Španělsko** - vinná réva, citrusy, kukuřice, brambory, banány, olivy, broskve, okurky, ovce, ryby, skot, prasata

**Itálie** - fíky, olivy, pšenice, kukuřice, slunečnice, vinná réva, obilí, skot

**Řecko** - obilí, vinná réva, tabák, bavlna, cukrová řepa, ořechy, ovce, kozy, ryby

	<b>Portugalsko, Španělsko, Itálie</b>
	<b>Španělsko, Itálie, Řecko</b>
	<b>Portugalsko, Španělsko, Itálie</b>

*Autorem materiálu a všech jeho částí, není-li uvedeno jinak, jsou:*

*A. Strádalová, Mgr. D. Nováková, M. Strádalová, M. Metlický.*

*Vytvořeno dne 30. 1. 2012.*

*Nový začátek (New start) CZ.1.07/1.4.00/21.1409*

*Tento projekt je spolufinancován Evropským sociálním fondem a státním rozpočtem České republiky.*

	<b>Itálie</b>
	<b>Španělsko, Řecko</b>
	<b>Portugalsko, Španělsko</b>

13. Seřaď podle počtu obyvatel od nejméně po nejvíce osídlený stát (od 1 do 9).

číslo	stát	počet obyvatel
<b>6</b>	<b>Portugalsko</b>	<b>10 700 000</b>
<b>9</b>	<b>Itálie</b>	<b>60 100 000</b>
<b>7</b>	<b>Řecko</b>	<b>11 300 000</b>
<b>8</b>	<b>Španělsko</b>	<b>46 100 000</b>
<b>3</b>	<b>Monako</b>	<b>32 400</b>
<b>5</b>	<b>Malta</b>	<b>397 000</b>
<b>2</b>	<b>San Marino</b>	<b>27 300</b>
<b>1</b>	<b>Vatikán</b>	<b>440</b>
<b>4</b>	<b>Andorra</b>	<b>84 000</b>

*Autorem materiálu a všech jeho částí, není-li uvedeno jinak, jsou:*

*A. Strádalová, Mgr. D. Nováková, M. Strádalová, M. Metlický.*

*Vytvořeno dne 30. 1. 2012.*

*Nový začátek (New start) CZ.1.07/1.4.00/21.1409*

*Tento projekt je spolufinancován Evropským sociálním fondem a státním rozpočtem České republiky.*