

INVESTICE DO ROZVOJE VZDĚLÁVÁNÍ

č. 1

název	Opakování učiva ze 7. ročníku
anotace	V pracovních listech si žáci opakují základní vědomosti z geografické, topografické a kartografické terminologie. Testovou i zábavnou formou si prohlubují znalosti na dané téma. Součástí pracovního listu je i správné řešení.
očekávaný výstup	ZV – LMP Člověk a příroda – 2. stupeň Z – rozumět základní geografické, topografické a kartografické terminologii
druh učebního materiálu	Pracovní list
druh interaktivity	Aktivita
ročník	8.

Autorem materiálu a všech jeho částí, není-li uvedeno jinak, jsou:

A. Strádalová, Mgr. D. Nováková, M. Strádalová.

Vytvořeno dne 30. 8. 2011.

Nový začátek (New start) CZ.1.07/1.4.00/21.1409

Tento projekt je spolufinancován Evropským sociálním fondem a státním rozpočtem České republiky.

OPAKOVÁNÍ UČIVA ZE 7. ROČNÍKU – pracovní list

Jméno: _____

1. Dopln názvy chybějících světadílů.

Antarktida

Evropa

2. Která planeta sluneční soustavy je největší?

3. Do sluneční soustavy patří – doplň písmena.

P _ _ _ A _ _ _ E _ _ _ Y

_ _ _ L _ _ _ N _ _ _ E

M _ _ _ S _ _ _ C _ _ _

Autorem materiálu a všech jeho částí, není-li uvedeno jinak, jsou:

A. Strádalová, Mgr. D. Nováková, M. Strádalová.

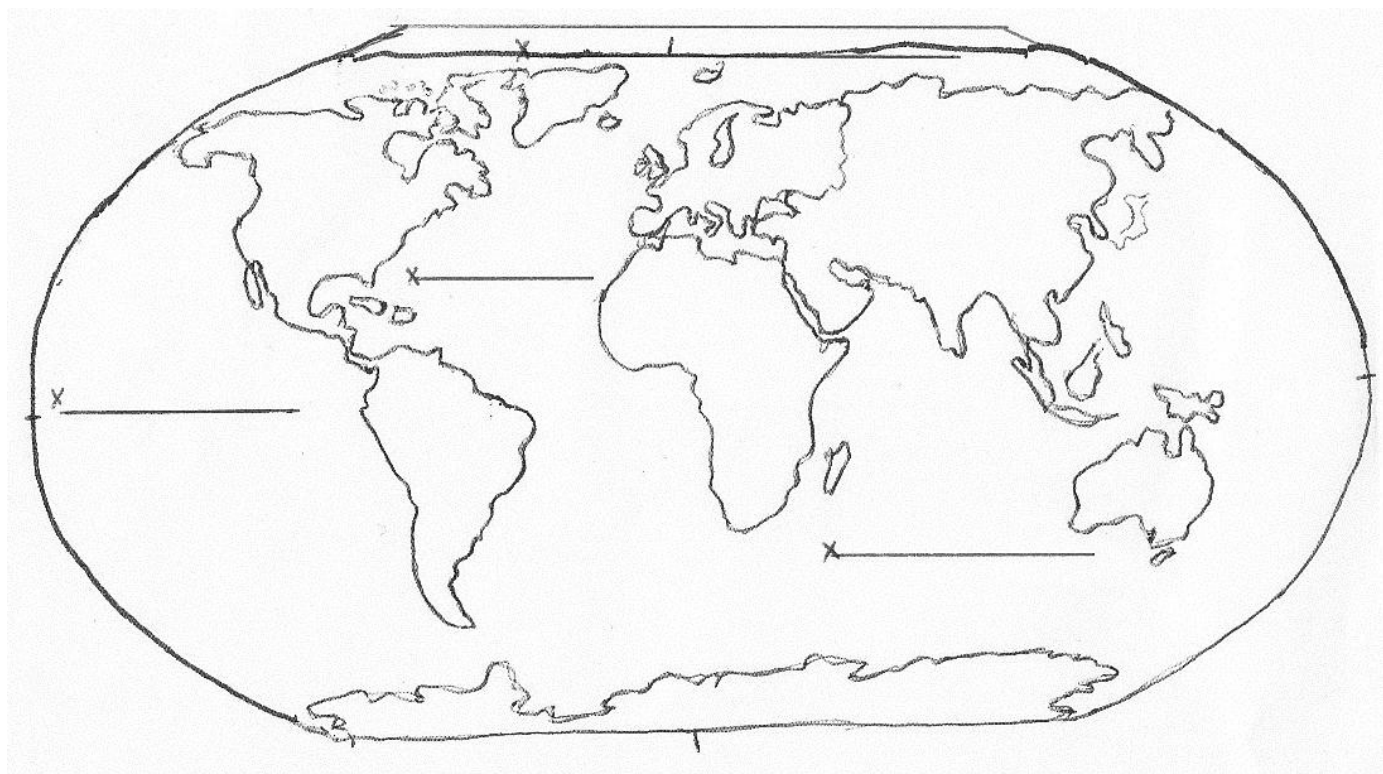
Vytvořeno dne 30. 8. 2011.

Nový začátek (New start) CZ.1.07/1.4.00/21.1409

Tento projekt je spolufinancován Evropským sociálním fondem a státním rozpočtem České republiky.

4. Mapa světa

- A. Urči světové strany a zakresli je do mapy.
- B. Popiš všechny světadíly a barevně je vybarvi.
- C. Vybarvi a popiš oceány.



5. Urči pořadí od největšího oceánu k nejmenšímu.

- | | | |
|-----------------------|-----------------------------|--------------------------------|
| <input type="radio"/> | Atlantický oceán | 94 mil. km² |
| <input type="radio"/> | Severní ledový oceán | 11 mil. km² |
| <input type="radio"/> | Indický oceán | 74 mil. km² |
| <input type="radio"/> | Tichý oceán | 179 mil. km² |

Autorem materiálu a všech jeho částí, není-li uvedeno jinak, jsou:

A. Strádalová, Mgr. D. Nováková, M. Strádalová.

Vytvořeno dne 30. 8. 2011.

Nový začátek (New start) CZ.1.07/1.4.00/21.1409

Tento projekt je spolufinancován Evropským sociálním fondem a státním rozpočtem České republiky.

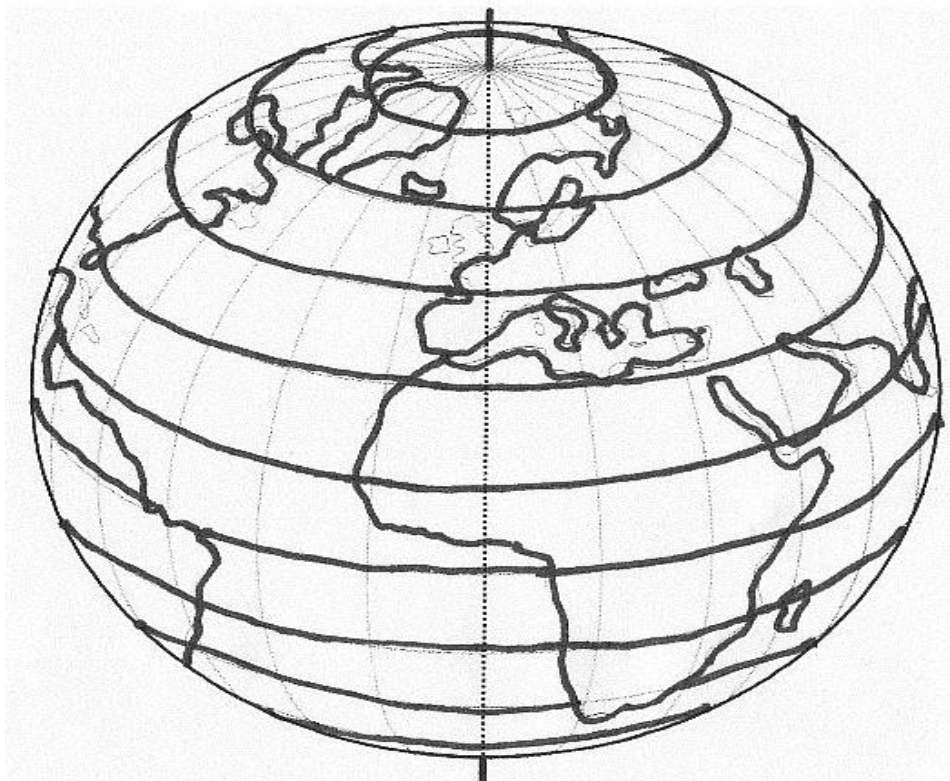
6. Doplň věty:

Nejbližší hvězdou je _____, které je zdrojem

_____ a _____.

7. Napiš jména alespoň 3 souhvězdí.

8. Červenou barvou vyznač rovník, severní polokouli vybarvi žlutě a jižní polokouli modře.



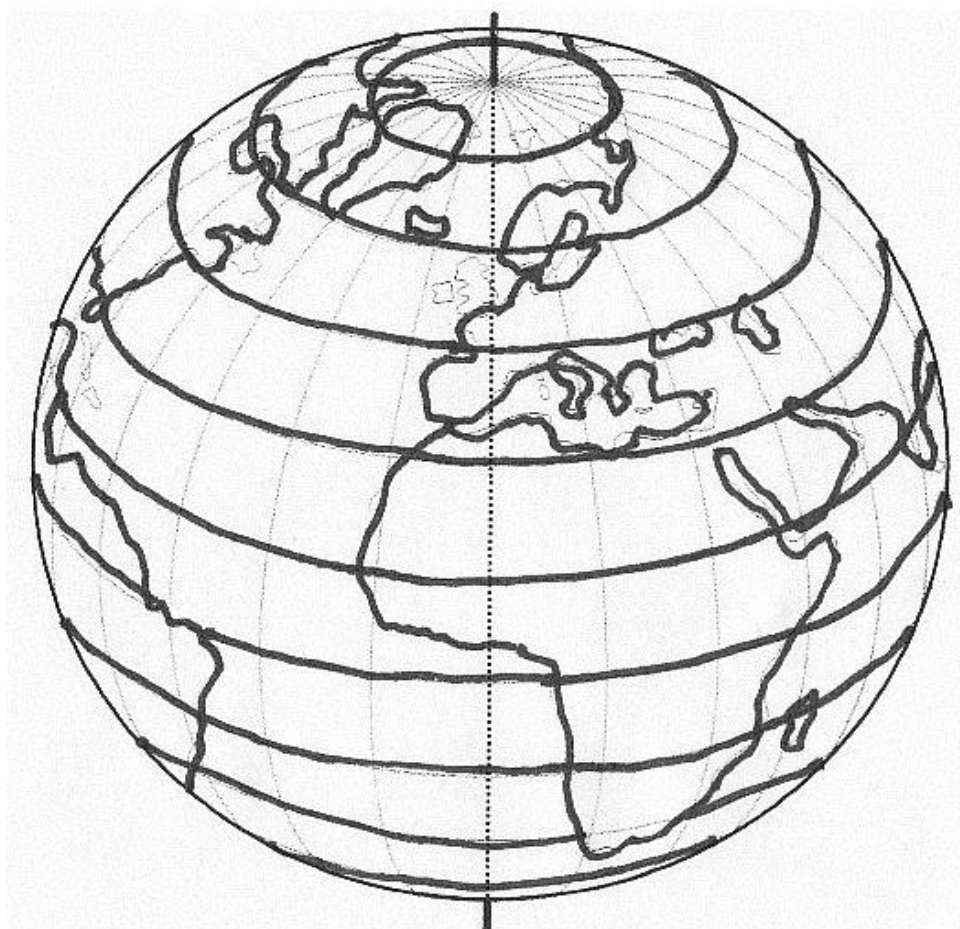
A. Strádalová, Mgr. D. Nováková, M. Strádalová.

Vytvořeno dne 30. 8. 2011.

Nový začátek (New start) CZ.1.07/1.4.00/21.1409

Tento projekt je spolufinancován Evropským sociálním fondem a státním rozpočtem České republiky.

9. Červenou barvou vyznač poledník, východní polokouli vybarvi zeleně a západní polokouli hnědě.



Autorem materiálu a všech jeho částí, není-li uvedeno jinak, jsou:

A. Strádalová, Mgr. D. Nováková, M. Strádalová.

Vytvořeno dne 30. 8. 2011.

Nový začátek (New start) CZ.1.07/1.4.00/21.1409

Tento projekt je spolufinancován Evropským sociálním fondem a státním rozpočtem České republiky.

OPAKOVÁNÍ UČIVA ZE 7. ROČNÍKU – řešení

1. Dopln názvy chybějících světadílů.

Antarktida

Asie

Evropa

Afrika

Amerika

Austrálie

2. Která planeta sluneční soustavy je největší?

Jupiter

3. Do sluneční soustavy patří – doplň písmena.

P L A N E T Y

S L U N C E

M Ě S Í C E

Autorem materiálu a všech jeho částí, není-li uvedeno jinak, jsou:

A. Strádalová, Mgr. D. Nováková, M. Strádalová.

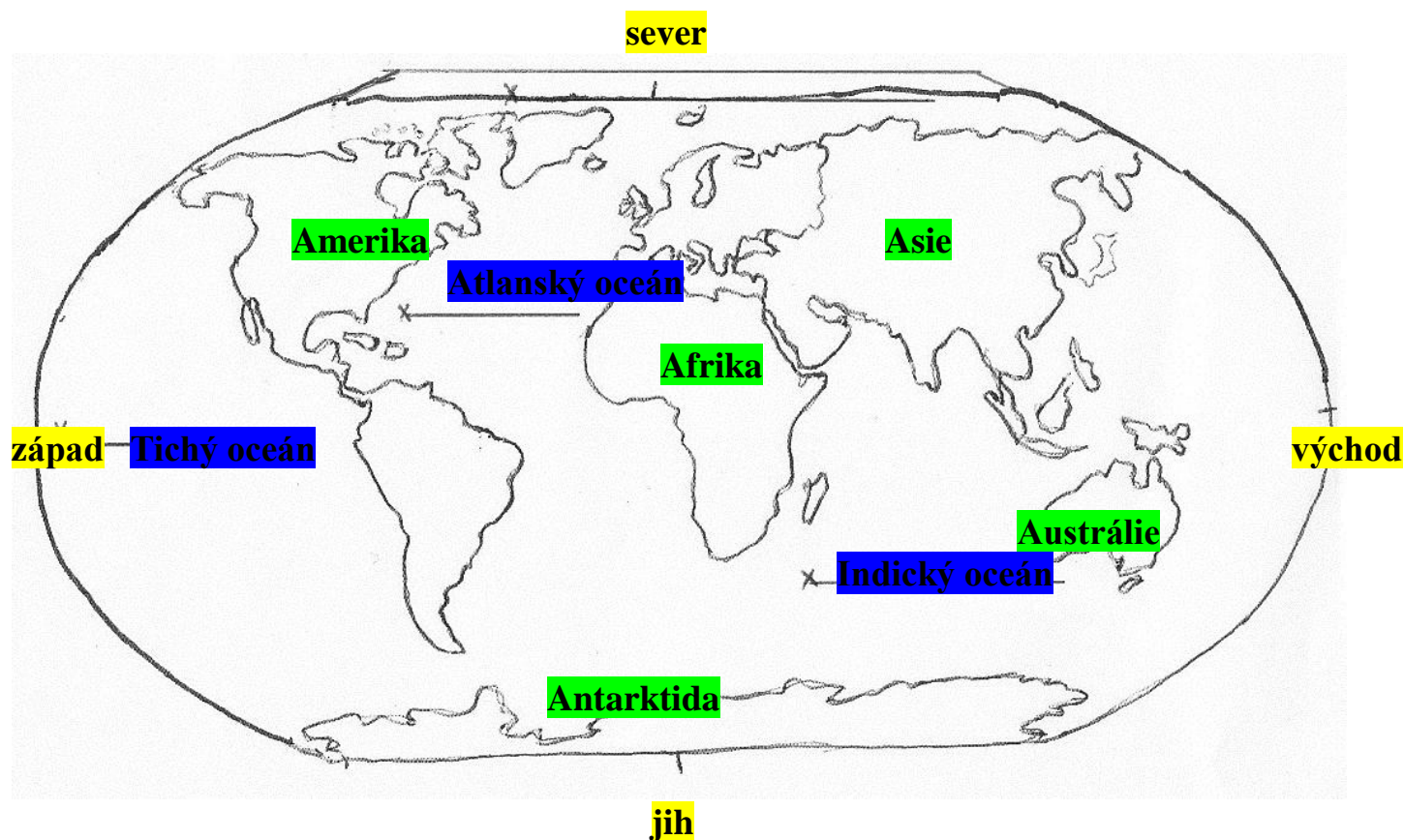
Vytvořeno dne 30. 8. 2011.

Nový začátek (New start) CZ.1.07/1.4.00/21.1409

Tento projekt je spolufinancován Evropským sociálním fondem a státním rozpočtem České republiky.

4. Mapa světa

- A. Urči světové strany a zakresli je do mapy.
- B. Popiš všechny světadíly a barevně je vybarvi.
- C. Vybarvi a popiš oceány.



5. Urči pořadí od největšího oceánu k nejmenšímu.

- | | | |
|---|----------------------|--------------------------|
| ② | Atlantický oceán | 94 mil. km ² |
| ④ | Severní ledový oceán | 11 mil. km ² |
| ③ | Indický oceán | 74 mil. km ² |
| ① | Tichý oceán | 179 mil. km ² |

Autorem materiálu a všech jeho částí, není-li uvedeno jinak, jsou:

A. Strádalová, Mgr. D. Nováková, M. Strádalová.

Vytvořeno dne 30. 8. 2011.

Nový začátek (New start) CZ.1.07/1.4.00/21.1409

Tento projekt je spolufinancován Evropským sociálním fondem a státním rozpočtem České republiky.

6. Doplň věty:

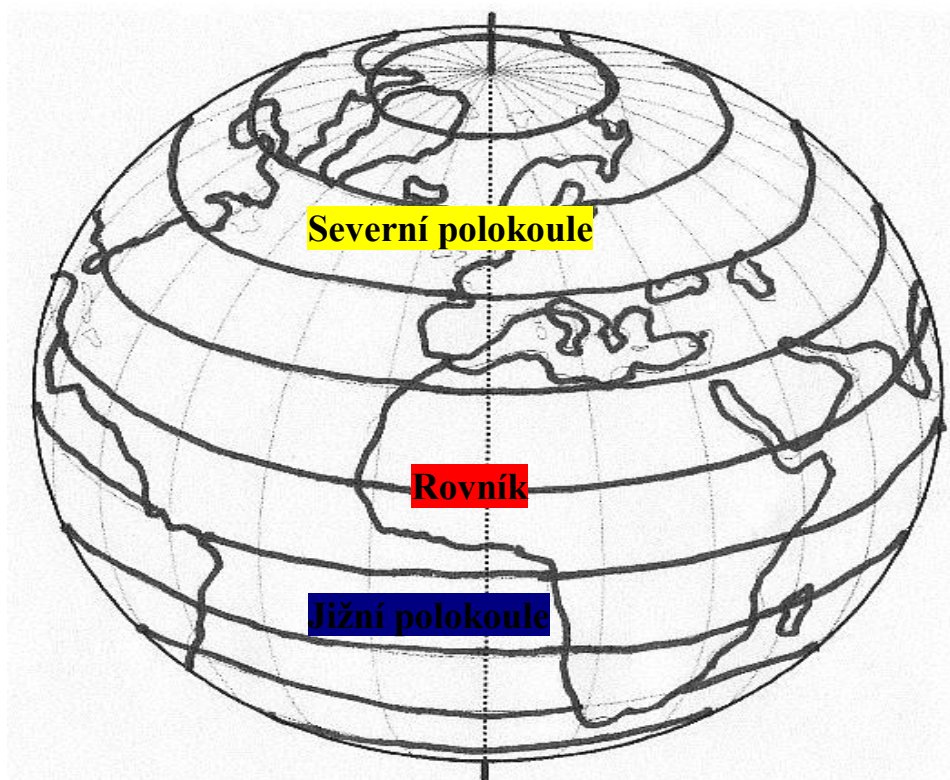
Nejbližší hvězdou je **Slunce**, které je zdrojem

světla a **tepla**.

7. Napiš jména alespoň 3 souhvězdí.

Souhvězdí – Adromeda, Vodnář, Velká medvědice, Orion, Perseus, Herkules

8. Červenou barvou vyznač rovník, severní polokouli vybarvi žlutě a jižní polokouli modře.



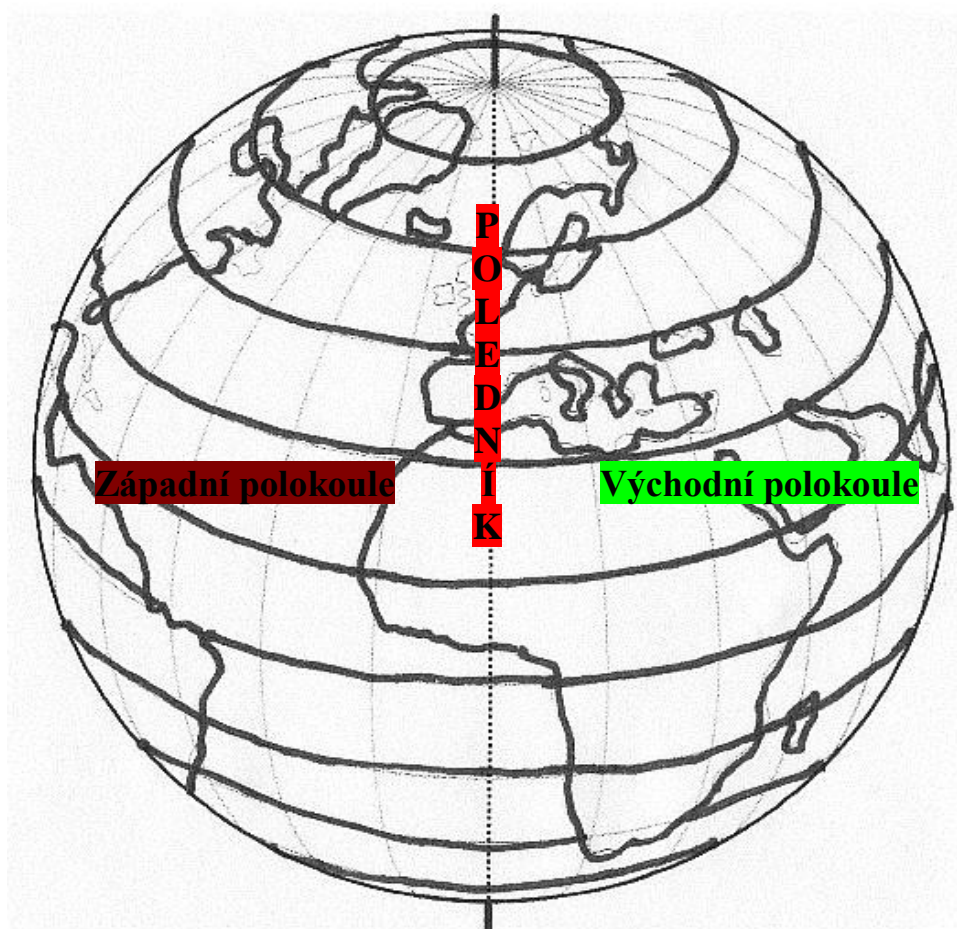
A. Strádalová, Mgr. D. Nováková, M. Strádalová.

Vytvořeno dne 30. 8. 2011.

Nový začátek (New start) CZ.1.07/1.4.00/21.1409

Tento projekt je spolufinancován Evropským sociálním fondem a státním rozpočtem České republiky.

9. Červenou barvou vyznač poledník, východní polokouli vybarvi zeleně a západní polokouli hnědě.



Autorem materiálu a všech jeho částí, není-li uvedeno jinak, jsou:

A. Strádalová, Mgr. D. Nováková, M. Strádalová.

Vytvořeno dne 30. 8. 2011.

Nový začátek (New start) CZ.1.07/1.4.00/21.1409

Tento projekt je spolufinancován Evropským sociálním fondem a státním rozpočtem České republiky.